

中大暨南

2000年招收硕士研究生入学考试试题 A 卷

专业：经济类专业 考试科目：经济学
方向： 学积分 学积分 学积分 学积分

注：所有试题答案均须写清试题序号做在答题纸上，凡在试题纸上答题，答案一律无效。

一、简答题（每小题10分，共60分）

1. 为什么说劳动二重性学说是理解政治经济学的枢纽？
2. 资本积累及其客观必然性。
3. 简述垄断与竞争的关系。
4. 简述社会主义初级阶段个人收入差距的成因。
5. 简述边际生产力均等法则。
6. 厂商利润最大化原则是什么？

二、论述题（每小题20分，共40分）

1. 试论资源配置的市场调节方式。
2. 试评述供给学派的基本理论观点及其政策主张。

中南财经政法大学

中南财经政法大学

2001年招收硕士学位研究生入学考试试题

2001年招收硕士学位研究生入学考试试题 A卷

专业：财经类各专业

考试科目：经济学

注：所有试题答案均须写清试题序号做在答题纸上，凡在试题纸上答题，答案一律无效。

一、名词解释（每小题5分，共20分）

1. 垄断价格

2. 经济发展

3. 消费者剩余

4. 外部效应

二、简答题（每小题10分，共40分）

1. 为什么私人劳动与社会劳动的矛盾是简单商品经济的基本矛盾？

2. 如何使市场对资源配置起基础性的调节作用？

3. 简述社会总需求的含义及其构成。

4. 市场失灵及其原因。

三、论述题（每小题20分，共40分）

1. 试论平均利润率的形成。

2. 试评述理性预期学派的宏观经济学的基本观点及政策主张。

中南财经政法大学

2002 年招收研究生入学考试试题 A 卷

专业：财经类各专业

考试科目：经济学

方向：

注意：所有试题答案均须写清试题序号做在答题纸上，凡在试题纸上答题，答案一律无效。

一、名词解释（每题 5 分，共 20 分）

- 1、资本有机构成
- 2、生产价格
- 3、“挤出”效应
- 4、流动偏好陷阱

二、简答题（每题 10 分，共 40 分）

- 1、货币的本质是什么？
- 2、按劳分配的客观必然性何在？
- 3、已知某企业的短期总成本函数是 $STC(Q) = 0.04Q^3 - 0.8Q^2 + 10Q + 5$ ，求最小的平均可变成本值。
- 4、简述凯恩斯有效需求不足理论及其现实意义。

三、论述题（每题 20 分，共 40 分）

- 1、级差地租 I 和级地租 II 的区别和联系。
- 2、试述完全竞争下，成本不变行业、成本递增行业和成本递减行业的长期供给曲线。

中南财经政法大学

2002 年招收研究生入学考试试题 A 卷

专业：财经类各专业

考试科目：经济学

方向：

注意：所有试题答案均须写清试题序号做在答题纸上，凡在试题纸上答题，答案一律无效。

一、名词解释（每题 5 分，共 20 分）

1、**资本有机构成**：①. 资本价值构成，不变资本和可变资本之间的比例，叫做资本的价值构成。②. 资本技术构成，由生产技术水平决定的生产资料和劳动力之间的量的比例，叫做资本的技术构成。③. 资本有机构成，由资本技术构成决定并且反映其变化的资本的价值构成，叫做资本的**有机构成**，通常用 $C:V$ 表示。随着资本主义的发展，资本有机构成有不断提高的趋势，这是资本积累的必然结果。④. 资本有机构成提高的其他后果，资本有机构成除了造成大量的相对过剩人口之外，在资本主义社会中还造成了其他一些后果，比如生产资料生产的优先增长、平均利润率下降的趋势等。

2、**生产价格**：成本价格又叫生产成本，是指生产单位商品所耗费的不变资本和可变资本之和。利润是资本在运动中带来的，表现为全部预付资本产物的价值增加额。它是剩余价值的转化形式，来源于产业部门雇佣工人的剩余劳动。剩余价值是利润的本质，利润是剩余价值的转化形式。生产成本加上平均利润就是生产价格。①. 生产价格没有否定价值规律。生产价格是以价值为基础形成的；从全社会看，平均利润总额和剩余价值总额是相等的，从而生产价格总额和价值总额也是相等的；生产价格会随着价值的变化而变化。②. 生产价格形成后价值规律作用形式的变化。生产价格形成后，生产价格是商品交换的基础，价值规律作用形式就变为市场价格以生产价格为中心而上下波动。

3、“**挤出**”效应：政府实行一项扩张性财政政策，它可以是增加政府支出，也可以是减少税收，根据乘数效应，国民收入会成倍增加，同时对货币的交易需求增加了，假定货币供给未变动，则人们手中用语投机需求的货币必须减少，这就要求利率上升。利率的上升抑制了私人投资和消费，这就是所谓“挤出效应”。

4、**流动偏好陷阱**：对利率的预期是人们调节货币和债券配置比例的重要依据，利率越高，货币需求量越小。当利率极高时，这一需求量等于零，因为人们认为这时利率不大可能再上升，或者说有价证券价格不大可能再下降，因而将所持有的货币全部换成有价证券。反之，**当利率极低**，比方说2%，人们会认为这时利率不大可能再下降，或者说有价证券市场价格不大可能再上升而只会跌落，因而会将所持有的有价证券全部换成货币。人们有了货币也决不肯再去买有价证券，以免证券价格下跌时遭受损失，人们不管有多少货币都愿意持有手中，这种情况称为“**凯恩斯陷阱**”或“**流动偏好陷阱**”。

二、简答题（每题10分，共40分）

1、货币的本质是什么？

解：货币是商品交换发展的结果，是在商品交换漫长的历史发展过程中，从商品世界中游离出来稳定地充当一般等价物的一种特殊商品，体现着商品生产者之间的社会经济关系。

货币有五大职能：价值尺度、流通手段、贮藏手段、支付手段、世界货币。货币的第一种职能是价值尺度，商品的价值当用货币表现出来时候，叫做价格。价格是价值的货币表现，是商品的价值与货币的价值的比率。货币的第二个职能是流通手段，即充当商品交换的媒介，贮藏手段，指货币退出流通，作为社会财富的一般代表而被贮藏起来。支付手段，指在以延期支付方式买卖商品或用于清偿债务时执行的职能。（5）世界货币，指货币越出一国的界限，在世界市场上作为一般的流通手段、支付手段和社会财富的化身发挥作用，这实际上是货币职能在世界范围的延伸。

2、按劳分配的客观必然性何在？

解：1. 生产资料公有制是按劳分配的前提，它排除了按资分配的可能性。2. 由社会主义生产力水平决定的，社会主义只有实行按劳分配才能适合生产力发展。3. 社会主义存在三大差别，区域，工农、劳资；这是实现按劳分配的直接原因。4. 劳动还是谋生的手段，没有变成第一需要。

3、已知某企业的短期总成本函数是 $STC(Q) = 0.04Q^3 - 0.8Q^2 + 10Q + 5$ 。求最小的平均可变成本值。

解： $TC(Q) = TEC + TVC(Q)$
 $AVC(Q) = TVC(Q) \div Q = [0.04Q^3 - 0.8Q^2 + 10Q] \div Q = 0.04Q^2 - 0.8Q + 10$
 $[AVC(Q)]' = 0.08Q - 0.8$ 解得驻点 $Q = 10$
 $\min AVC = 6$

4、简述凯恩斯有效需求不足理论及其现实意义。

解：有效需求不足理论是英国经济学家凯恩斯针对资本主义经济运行的矛盾提出的。按照凯恩斯在《通论》一书中对有效需求的解释，它包括消费需求和投资需求。后来，凯恩斯在《一般均衡理论》一书中，进一步明确将社会大众的消费需求、厂商投资需求、政府需求和国外需求等四种需求加总，称为全社会需求或有效需求。社会总需求是指有效需求，即总供给等于总需求时的需求。有效需求不足就是指在市场经济条件下，社会总供给总是大于社会总需求，国民收入不能全部转变为有效需求。

他对“有效需求不足”从“三大心理规律”上做了分析。第一，边际消费倾向递减规律：随着收入的增加，消费在收入中所占的比例是逐渐减少的，这样就造成消费需求的相对不足。第二，资本边际效率递减规律：投资增加会导致生产资料价格上涨；另一方面又会造成商品价格下跌，这样，预计的投资盈利率将会是逐渐下降的。而预计的投资盈利率的下降又会引起投资需求逐渐衰退。第三，流动偏好规律：人们总是希望手头保存现钱，以备不虞之需，所以银行利息率必须维持在一定水平上，不可利息很低，否则谁还把现钱存入银行呢？由于利息率要维持在一一定的水平上，而预计投资盈利率又逐渐下降，所以人们很可能进一步减少

对投资的兴趣，这样也就会进一步造成投资需求不足。

从表象上看，中国目前存在的有效需求不足有如下具体表现：

第一，市场价格处于低位，消费需求增长缓慢。当前价格的下降是前几年价格下降的持续，2002年全年全国居民消费价格总水平比上年同期下降了0.8%，其中：城市下降1%，农村下降0.4%。

第二，收入差距拉大，居民消费倾向降低。随着国民经济的持续增长，国内居民间的收入差距却在不断地扩大，而且城乡之间、地区之间和行业之间的收入差距也在加速扩大。2002年末，城乡居民存款增速依然远远高于消费的增长，储蓄余额达到8.7万亿元，反映出城乡居民消费倾向降低。居民消费倾向降低和收入差距拉大并存，预期支出和下岗失业压力的增大，不仅影响到了广大中低收入阶层的生活质量，而且也逐步成为制约消费需求和投资需求扩大的主要因素。

第三，就业压力明显增大。在我国加入世界贸易组织的新形势下，一方面，技术有机构成的提高将使单位经济增长吸纳劳动力的数量下降；另一方面，外在的竞争压力将加速农村剩余劳动力向城市转移，加速国内企业的优化重组。此外，下岗失业人员、新增劳动力、扩招大学生数量的增加，几股力量汇聚在一起，加剧了就业的难度和压力。

第四，经济增长过度依赖于投资。国内有效需求不足和供给结构不适应市场需求变化仍比较明显，投资对国债的依赖性仍较强，自主增长的内在机制仍不完善。

第五，国际环境还存在很大的不确定性，复苏的前景仍不明朗。世界局部地区的战争阴影对世界经济回升和国际市场油价产生的影响难以预料；出口继续保持高增长、大顺差的难度很大；等等。

针对我国的有效需求不足的情况，应该采取的措施是：扩大内需，投资、消费双轮驱动，保持宏观经济适度快速增长。扩大投资和政府支出就会形成经济增长的“乘数效应”。随着收入分配中工资所占比重的增长，在我国目前居民收入水平不高的情况下，有效地刺激居民消费需求，会引致民间投资的扩张，拉动经济增长，此外还会有效改善居民的收入预期，增强信心，减少过度储蓄，扩张即期消费，促进经济增长。扩大就业，多渠道、多层次增加城镇居民收入。正处于工业化进程中的中国经济增长离不开劳动投入的大量追加。要认真落实扩大就业的各项优惠政策，多渠道、多形式促进就业，对下岗失业人员中再就业困难的低收入者实施就业援助，遵循产业升级规律和劳动力供求关系，积极发展劳动密集型的制造业和服务业，开辟多吸纳就业的机会，努力提高经济增长对就业的拉动作用。政府投资扩大就业，应当集中于公共产品和服务领域。

三、论述题（每题20分，共40分）

1、级差地租Ⅰ和级差地租Ⅱ的区别和联系。

解：级差地租是指与土地等级相联系的有差别的地租，其实体是农产品的个别生产价格低于社会生产价格的差额所形成的超额利润。级差地租产生的原因是对土地的资本主义经营垄断。这种垄断使农产品的社会生产价格由劣等地的生产条件决定，这样，经营中等地和优等地的资本家就会获得超额利润，形成级差地租。级差地租产生的条件是土地优劣程度的不同。土地优劣条件的不同使得等量资本投入等面积的不同地块上的生产率出现差异，导致不同地块上农产品的个别生产价格不同。由于农产品的社会生产价格由劣等地决定，因此经营中等地和优等地的资本家就可按照高于自己个别生产价格的社会生产价格售卖自己的农产品，从而形成超额利润。级差地租的来源是耕种优等地和中等地的农业工人创造的剩余价值。

级差地租由于形成条件的不同而分为两种形态：级差地租Ⅰ和级差地租Ⅱ。级差地租Ⅰ是不同地块间由于土地自然条件的差异（包括肥沃程度和距离市场远近的不同）而形成的级差地租；级差地租Ⅱ则是由于在同一块土地上连续追加投资的劳动生产率不同而形成的级差地租。

2、试述完全竞争下，成本不变行业、成本递增行业和成本递减行业的长期供给曲线。

解：成本不变行业的长期供给曲线。成本不变行业是这样一种行业，该行业的产量变化所引起的生产要素需求的变化，不对生产要素的价格发生影响。这可能是因为这个行业对生产要素的需求量，只占生产要素市场需求址的很小一部分。在这种情况下，行业的长期供给曲线是一条水平线。下面以图图 2—1 进行分析。

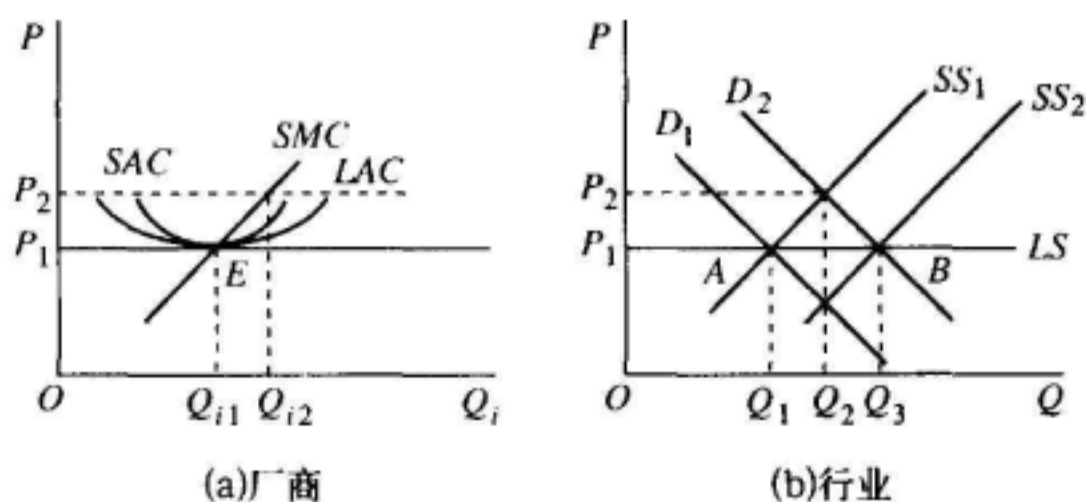


图 2—1 成本不变行业的长期供给曲线

我们由完全竞争厂商和行业的长期均衡点出发，来推导完全竞争行业的长期供给曲线。在图 2—1 中，由市场需求曲线 D_1 和市场短期供给曲线 SS_1 的交点 A 所决定的市场均衡价格为 P_1 。在价格水平 P_1 ，完全竞争厂商在 LAC 曲线的最低点正实现长期均衡，每个厂商的利润均为零。由于行业内不再有厂商的进入和退出，故称 A 点为行业的一个长期均衡点。此时，

厂商的均衡产量为 Q_{i1} ，行业均衡产量为 Q_1 ，且有 $Q_1 = \sum_{i=1}^n Q_{i1}$ 。

假定外在因素影响使市场需求增加， D_1 曲线向右移至 D_2 曲线的位置，且与 SS_1 曲线相交，相应的市场价格水平由 P_1 上升到 P_2 。在新的价格 P_2 ，厂商在短期内沿着既定生产规模的 SMC 曲线，将产量由 Q_{i1} 提高到 Q_{i2} ，并获得利润。

从长期看，由于单个厂商获得利润，便吸引新厂商加入到该行业中来，导致行业供给增加。行业供给增加会产生两方面的影响。一方面，它会增加对生产要素的需求；但因为是成本不变行业，所以，生产要素的价格不发生变化，企业的成本曲线的位置不变；另一方面，行业供给增加会使厂商的 SS_1 曲线不断向右平移，随之，市场价格逐步下降，单个厂商的利润也逐步下降。这个过程一直要持续到单个厂商的利润消失为止，即 SS_1 曲线一直要移动到 SS_2 曲线的位置，从而使得市场价格又回到了原来的长期均衡价格水平 P_1 ，单个厂商又在原来的 LAC 曲线的最低点 E 实现长期均衡。所以， D_2 曲线和 SS_2 曲线的交点 B 是行业的又一个长期均衡点。此时有 $Q_2 = \sum_{i=1}^n Q_{i1}$ ，市场的均衡产量的增加量为 $Q_2 - Q_1$ ，它是由新加入的厂商提供的，但行业内每个厂商的均衡产量仍为 Q_{i1} 。

连接 A、B 这两个行业的长期均衡点的线 LS 就是行业的长期供给曲线。**成本不变行业的长期供给曲线是一条水平线**。它表示：成本不变的行业是在不变的均衡价格水平提供产量，该均衡价格水平等于厂商的不变的长期平均成本的最低点。市场需求变化，会引起行业长期均衡产量的同方向的变化，但长期均衡价格不会发生变化。

成本递增行业的长期供给曲线。成本递增行业是这样一种行业，该行业产量增加所引起的生产要素需求的增加，会导致生产要素价格的上升。成本递增行业是较为普遍的情况。成本递增行业的长期供给曲线是一条向右上方倾斜的曲线，以图 2—2 进行分析。

在图中，开始时单个厂商的长期均衡点 E_1 和行业的一个长期均衡点 A 是相互对应的。它们表示：在市场均衡价格水平 P_1 ，厂商在 LAC_1 曲线的最低点实现长期均衡，且每个厂商

的利润为零。

假定市场需求增加使市场需求曲线向右移至 D_2 曲线的位置，并与原市场短期供给曲线 SS_1 相交形成新的更高的价格水平。在此价格水平，厂商在短期内将仍以 SMC_1 曲线所代表的既定的生产规模进行生产，并由此获得利润。

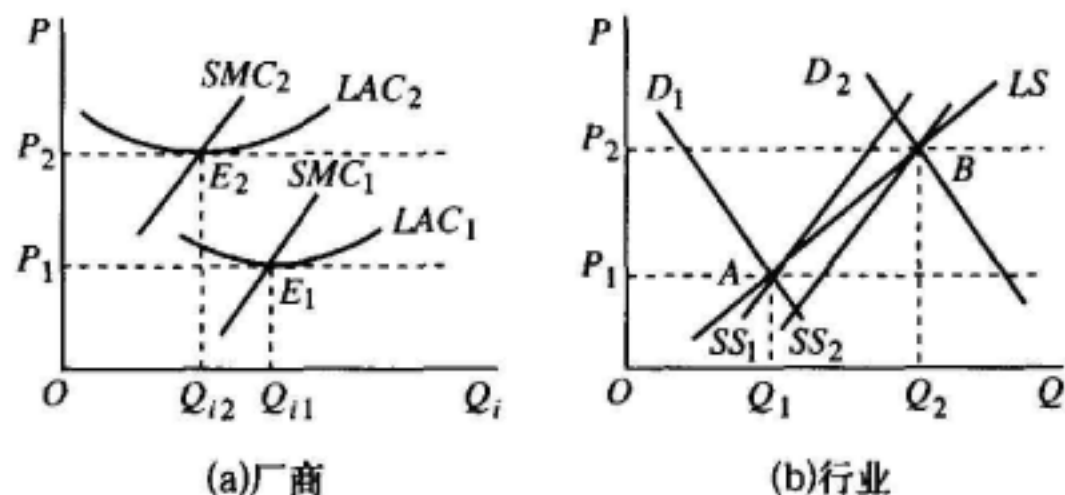


图 2—2：成本递增行业的长期供给曲线

在长期，新厂商会由于利润的吸引而进入到该行业的生产中来，整个行业供给增加。一方面，行业供给增加，会增加对生产要素的需求。与成本不变行业不同，在成本递增行业，生产要素需求的增加使得生产要素的市场价格上升，从而使得厂商的成本曲线的位置上升，即图中的 LAC_1 曲线和 SMC_1 曲线的位置向上移动。另一方面，行业供给增加直接表现为市场的 SS_1 曲线向右平移。那么，这种 LAC_1 曲线和 SMC_1 曲线的位置上移和 SS_1 曲线的位置右移的过程，一直要持续到什么水平才会停止呢？如图所示，它们分别达到 LAC_2 曲线和 SMC_2 曲线的位置及 SS_2 曲线的位置，从而分别在 E_2 点和 B 点实现厂商的长期均衡和行业的长期均衡。此时，在由 D_2 曲线和 SS_2 曲线所决定的新的市场均衡价格水平 P_2 ，厂商在 LAC_2 曲线的最低点实现长期均衡，每个厂商的利润又都为零，且 $Q_2 = \sum_{i=1}^n Q_{i2}$ 。

连结 A 、 B 这两个行业长期均衡点的线 LS 就是行业的长期供给曲线。成本递增行业的长期供给曲线是向右上方倾斜的。它表示：在长期，行业的产品价格和供给量成同方向变动。市场需求的变动不仅会引起行业长期均衡价格的同方向的变动，还同时引起行业长期均衡产量的同方向的变动。

成本递减行业的长期供给曲线。成本递减行业是这样一种行业，该行业产量增加所引起的生产要素需求的增加，反而使生产要素的价格下降了。行业成本递减的原因是外在经济的作用。这可能主要是因为生产要素行业的产量的增加，使得行业内单个企业的生产效率提高，从而使得所生产出来的生产要素的价格下降。成本递减行业的长期供给曲线是向右下方倾斜的。以图 2—3 进行分析。

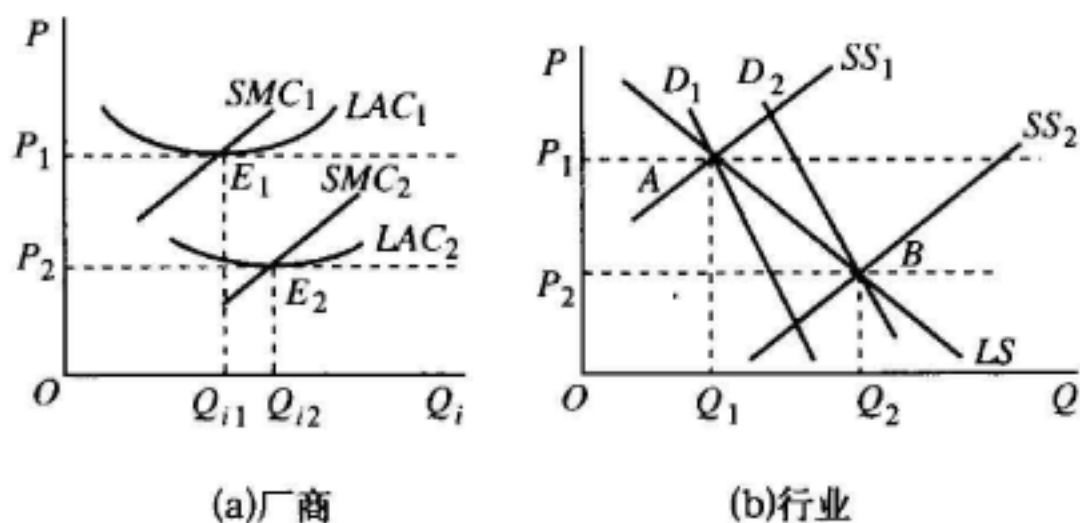


图 2—3：成本递减行业的长期供给曲线

与对图 2—2 的分析相似,开始时,厂商在 E_1 点实现长期均衡,行业在 A 点实现长期均衡, E_1 点和 A 点是相互对应的。所不同的是,当市场价格上升,新厂商由于利润吸引而加入到该行业中来的时候,一方面,在成本递减行业的前提下,行业供给增加所导致的对生产要素需求的增加,却使得生产要素的市场价格下降了,它使得图中原来的 LAC_1 曲线和 SMC_1 曲线的位置向下移动。另一方面,行业供给增加仍直接表现为 SS_1 曲线的位置向右移动。这两种变动一直要持续到厂商在 E_2 点实现长期均衡和行业在 B 点实现长期均衡为止。此时,在由 D_2 曲线和 SS_2 曲线所决定的新价格水平 P_2 , 厂商在 LAC_2 曲线的最低点实现长期均衡,每个厂商的利润又恢复为零,且 $Q_2 = \sum_{i=1}^n Q_{i2}$ 。

连结 A、B 这两个行业长期均衡点的线 LS 就是行业的长期供给曲线。**成本递减行业的长期供给曲线是向右下方倾斜的**,它表示:在长期,行业的产品价格和供给量成反方向的变动。市场需求的增加会引起行业长期均衡价格的反方向的变动,还同时会引起行业长期均衡产量的同方向的变动。



中南财经政法大学

人卷第	份册

2003 年招收硕士研究生入学考试试题

A 卷

专业:

考试科目: 经济学

方向:

注: 所有试题答案须写清试题序号做在答题纸上, 凡在试题纸上答题, 答案一律无效

一、名词解释 (每题 8 分, 共 40 分)

- 1、需求点弹性
- 2、机会成本
- 3、自然失业率
- 4、投资乘数
- 5、固定资本的无形损耗

二、简答题 (每题 15 分, 共 60 分)

- 1、简述劳动供给曲线
- 2、简述消费函数和储蓄函数的关系
- 3、社会主义初级阶段多种所有制并存的必然性。
- 4、国民收入再分配的必要性。

三、论述题 (每题 25 分, 共 50 分)

- 1、试述西方经济学家对不同市场的经济效率比较的基本观点。
- 2、试述平均利润率的形成过程。

(1) 求 t 时的商品剩余量, 并确定 t 的值;
 (2) 在时间段 $[0, T]$ 上的平均剩余量.

人卷第	份册

得分	评卷人

九 (本题满分 13 分)
 设 $\alpha_1 = (1, 2, a+3)^T, \alpha_2 = (2, 1, a+6)^T, \alpha_3 = (2, 1, a+4)^T$. 试问: 当 a 为何值时, 向量组 (I) 与 (II) 等价? 当 a 为何值时, 向量组 (I) 与 (II) 不等价?

专业：西方经济学
世界经济学
人口发展与环境经济学
国民经济学
政治经济学
经济思想史
方向：经济史

中南财经政法大学
2006年硕士研究生入学考试试题 A卷
考试科目：经济学
科目代码：406

注：所有试题答案均须写清试题序号做在答题纸上，凡在试题纸上答题，答案一律无效。

一、名词解释（每小题5分，共40分）

1. 需求价格弹性
2. 机会成本
3. 商品的边际替代率
4. 生产者剩余
5. 价值尺度
6. 可变资本
7. 虚拟资本
8. 跨国公司

二、判断正误，并说明理由（每小题5分，共10分）

1. 相对剩余价值是资本家通过绝对延长工作日，提高工人的劳动强度生产出来的。
2. 劳动生产率与单位商品的价值量成正比，与单位时间生产的价值总量成反比。

三、问答题（每小题15分，共60分）

1. 市场均衡价格是如何形成的？（要求作图）
2. 在家庭预算约束下消费者如何进行选择？
3. 为什么完全竞争厂商的短期供给曲线是一条向右上方倾斜的曲线？
4. “国家垄断资本主义产生和逐步发展以后，国家垄断取代私人垄断在经济生活中居于统治地位。”请联系国家垄断资本主义产生和发展的原因，论述国家垄断资本主义的实质和作用。

四、材料分析题（共15分）

1. 某企业年产100000件商品。固定资本额为200万元，使用年限为10年，投入流动资本额为40万元，周转时间为3个月。雇佣工人150人，每人每月平均工资450元，每件商品的社会价值为40元。请计算（保持小数点后的两位数）：

(1) 年剩余价值和年剩余价值率是多少(4分)?

(2) 年预付资本的周转速度是多少次(4分)?

2. 阅读下列与平均利润率相关的一组材料:

假定某国有且只有三个生产部门, 2004年各部门平均的资本构成、剩余价值生产和盈利状况见下表:

生产部门	资本构成	剩余价值率	剩余价值
甲	70c + 30v	300%	90
乙	80c + 20v	300%	60
丙	90c + 10v	300%	30
全社会	240c + 60v	300%	180

请回答:

(1) 计算该国全社会的平均利润率、每一部门榨取的剩余价值和最终获取利润的差额(4分)。

(2) 计算每一部门商品价值和生产价格的差额(3分)。

五、论述题(共25分)

试用你所学的微观经济学知识分析垄断竞争市场的经济效率。

www.docin.com

中南财经政法大学

2007 年招收攻读硕士研究生入学考试试题 A 卷

专业：经济学院各专业

科目名称：经济学

方向：所有方向

科目代码：815

注：所有试题答案均须写清试题序号做在答题纸上，凡在试题纸上答题，答案一律无效。

一、名词解释（每小题 4 分，共 40 分）

1. 均衡价格
2. 边际效用
3. 价格歧视
4. 纳什均衡
5. 价格领导制
6. 价值
7. 资本有机构成
8. 相对工资
9. 无形损耗
10. 土地价格

二、判断正误，并说明理由（每题 5 分，共 20 分）

1. 因为垄断企业能够控制产品价格，所以通过索要消费者所愿意支付的最高价格，它们总是能确保生产有利可图。
2. 完全垄断企业的边际成本曲线就是它的供给曲线。
3. 价值转化为生产价格以后资本家只能获得平均利润，不可能获得超额利润。
4. 随着信息时代的到来，由计算机网络建立的人与人之间的关系将成为社会的基本关系。

三、材料分析题（共 15 分）

20 世纪 80 年代末的中国家电业还处于短缺经济时代，存在较大的供需缺口，彩电产品

供应严重不足，彩电行业的利润率高达 50% 以上，如此之高的利润吸引行业外资本大量流入，争相生产彩电。然而，随着岁月的流逝，彩电产品的利润率逐年下降。到 2001 年，彩电业的利润率仅有 6%。这其中还包括利润相对较高的数字电视等创新产品。如果将这部分利润除外，普通彩电的利润几乎为零。其中 25 英寸、21 英寸彩电甚至是“赔本赚吆喝”。面对这种局面，2001 年家电行业成立了家电企业协会，国内九大彩电企业价格联盟，协商出台了所谓“行业自律价格”，试图将价格维持在较高的水平，维系“合理利润”，但彩电企业的联盟前后仅轰轰烈烈地进行了 44 天，就草草收场了。（资料来源：《深圳商报》2001 年 6 月 3 日；《决策与信息》2000 年第 10 期。）试问：

1. 彩电业的利润率 10 年间为什么发生了如此巨大的变化？运用政治经济学有关原理进行分析。（5 分）
2. “行业自律价格”的性质是什么？其实施的后果是什么？（3 分）
3. 你能说出“行业自律价格”草草收场的原因吗？（3 分）
4. 彩电业摆脱目前困境的根本出路是什么？（4 分）

四、简答题（每小题 10 分，共 40 分）

1. 如果你是一个大型艺术博物馆的馆长，你的财务经理告诉你，博物馆缺乏资金，并建议你考虑改变门票价格以增加总收益。你将如何决策？是提高门票价格？还是降低门票价格？为什么？
2. 为什么会产生规模经济？
3. “覆水难收”，“过去的事就让它过去吧！”请从经济学的角度说明这些谚语所包含的道理。
4. 请根据边际效用递减规律来解释需求规律。

五、论述题（共 35 分）

1. 试述马克思社会资本再生产理论的主要内容及其现实意义。（15 分）
2. 请解释：“竞争性企业的边际成本曲线位于平均可变成本曲线之上的部分构成了企业的短期供给曲线。”用图形的方式说明。（20 分）

中南财经政法大学

2008 年招收攻读硕士学位研究生入学考试试题 A 卷

专业： 科目名称：经济学

方向：所有方向 科目代码：805

注：所有试题答案均须写清试题序号做在答题纸上，凡在试题纸上答题，答案一律无效。

一、名词解释（每小题 4 分，共 20 分）

1. 限制价格
2. 收入—消费曲线
3. 边际报酬递减规律
4. 沉没成本
5. 范围经济

二、比较两者之间的关系（每小题 4 分，共 20 分）

1. 价值尺度/价格标准
2. 级差地租/绝对地租
3. 名义工资/实际工资
4. 平均利润/超额利润
5. 货币/资本

三、判断正误，并说明理由（每小题 5 分，共 10 分）

1. 生产者为了提高其收入，总是可以采用提高价格的办法。
2. 劣等品又称为吉芬商品。

四、材料分析题 (共 15 分)

虚拟资本的发展和货币的虚拟化推动了资本主义经济的虚拟化。在主要工业国家,随着 20 世纪 80 年代全面高涨的金融创新,出现了许多新的金融工具,它们使得这些国家的金融资产总量迅速膨胀。从 1996 年的情况看,美国金融资产膨胀的程度最高,其金融资产与实际 GDP 的比率为 377.7%,除加拿大以外,主要工业国家的金融资产总值都在其实际 GDP 的两倍以上。主要工业国家金融资产年平均增长率与 GDP 年平均增长率的比率见下表。

主要工业国家金融资产年平均增长率与 GDP 年平均增长率的比率 (%)

年份 国家	1980-1985	1985-1990	1990-1996
美国 金融资产年平均增长率(X) 实际 GDP 增长率 X/GDP	14.38 2.70 532.60	10.32 2.80 368.50	8.30 2.10 395.20
意大利 金融资产年平均增长率(X) 实际 GDP 增长率 X/GDP	18.60 1.50 1240.00	12.80 3.20 400.00	8.20 1.10 745.50
英国 金融资产年平均增长率(X) 实际 GDP 增长率 X/GDP	24.20 2.10 1153.40	49.50 3.50 1414.30	7.70 1.40 550.00
日本 金融资产年平均增长率(X) 实际 GDP 增长率 X/GDP	10.10 4.00 252.50	11.70 4.90 238.80	2.70 1.80 150.00
德国 金融资产年平均增长率(X) 实际 GDP 增长率 X/GDP	7.80 1.20 357.10	8.20 3.60 227.8	10.90 3.40 320.6

根据以上材料说明。

1. 什么是虚拟资本以及虚拟资本与实际资本的关系? (7 分)
2. 资本的虚拟化和金融资产的膨胀对经济发展的影响? (8 分)

五、计算题 (共一题, 10 分)

某制鞋厂拥有平均生产条件,资本家雇佣工人 50 人,工作日为 8 小时,工人人均 4 小时生产 1 双鞋,消耗生产资料价值为 22 元,每个工人 1 小时创造新价值 2 元,劳动力价值 8 元。计算:

- (1) 该厂工作日中的必要劳动时间和剩余劳动时间。(2 分)

(2) 该资本家一天消耗的资本价值，其中 c 和 v 各为多少？（3分）

(3) 资本家一天共获得的剩余价值和剩余价值率。（3分）

(4) 每双鞋的价值量。（2分）

六、简答题（每小题10分，共40分）

1. 当政府对一种商品征税时，税收负担因供求弹性的差异是如何确切地划分的？
2. 试述总产量、平均产量、边际产量的关系及其经济意义。
3. 简述垄断厂商的定价法则。
4. 试用囚徒困境说明什么是占优策略均衡。

七、论述题（共35分）

1. 如何理解超额利润与价值规律的关系？（15分）
2. 试从经济效率的角度评价垄断竞争厂商的长期均衡。（20分）

www.docin.com

中南财经政法大学

2009 年招收攻读硕士学位研究生入学考试试题

B 卷

专业名称：经济学

科目名称：经济学

方向名称：经济学院所有方向

科目代码：805

注：所有试题答案均须写清试题序号做在答题纸上，凡在试题
纸上答题，答案一律无效。

一、名词解释（每题 4 分，共 28 分）

1. 恩格尔法则
2. 纳什均衡
3. 生产可能性曲线
4. 边际报酬递减规律
5. 勒纳指数
6. 金融资本
7. 创业利润

二、判断正误并说明理由（每题 5 分，共 10 分）

1. 如果 A 点是帕累托最优，而 B 不是帕累托最优，则从 B 点到 A 点的移动必然是帕累托改进。
2. 如果某个企业将生产某种产品所需要的自然资源的产权全部买下，从而成为垄断者，这种垄断就是自然垄断。

三、简答题（每题 10 分，共 80 分）

1. 政府实行限制价格会导致什么后果？如何解决？
2. 根据消费者行为理论，理性消费者是如何实现消费者均衡的？
3. 完全竞争市场必须具备哪些条件？
4. 与完全竞争和完全垄断市场相比，垄断竞争市场具有哪些独特的优势？

5. 简述货币转化为资本的关键是什么？
6. 简述超额剩余价值和相对剩余价值的联系和区别？
7. 试述资本主义经济危机的根源和实质？
8. 试述资本输出的形式及对输出国的意义？

四、观点解析（12分。提示：要求根据引用的原文阐述马克思政治经济学的相关原理）

“过剩的工人人口是积累或资本主义基础上的财富发展必然产物，但是这种过剩人口反过来又成为资本主义积累的杠杆，甚至成为资本主义生产方式存在的一个条件。”——引自马克思《资本论》第一卷，人民出版社，1975年版，第692页。

五、论述题（20分）

1. 什么是囚徒困境，如何理解个体理性与集体非理性之间的关系？

www.docin.com

中南财经政法大学

2010 年招收攻读硕士学位研究生入学考试试题 B 卷

专业名称：经济学

科目名称：经济学

方向名称：经济学院所有专业

科目代码：805

注：所有试题答案均须写清试题序号做在答题纸上，凡在试题纸上答题，答案一律无效。

一、名词解释（每题 3 分，共 12 分）

1. 垄断价格
2. 资本积聚
3. 纯粹流通费用
4. 级差地租

二、观点辨析题（每题 7 分，共 21 分）

1. 在剩余价值生产过程中不变资本是价值增殖的必要条件，因此不变资本也是剩余价值的源泉。
2. 资本有机构成的提高必然引起对劳动力的需求绝对和相对减少。
3. 预付资本的总周转是指预付可变资本的平均周转。

三、计算分析题（第 1 题 12 分，第 2 题 10 分，共 22 分）

1. 某国年内商品价格总额为 14000 亿元，赊销商品的价格总额为 3500 亿元，到期支付商品价格总额为 4000 亿元，互相抵消支付商品价格总额为 2500 亿元。根据经验统计测定单位货币每元年平均流通次数为 8 次，当年发行纸币 2000 亿元。

- 试计算：（1）年商品流通所需要的货币量是多少？
（2）纸币每元贬值了多少？纸币贬值后每元值多少？
（3）请写出货币流通规律的基本公式。
（4）通过上述的计算，说明了纸币流通规律与货币流通规律的关系是什么？

2. 已知某完全竞争市场的需求函数为 $D=6300-400P$ ，短期市场供给函数为 $S=3000+150P$ ；单个企业在 LAC 曲线最低点的价格为 6，产量为 50，单个企业的成本规模不变。

- （1）求市场的短期均衡价格和均衡产量；（2 分）
- （2）判断（1）中的市场是否同时处于长期均衡，求行业内的厂商数量；（3 分）
- （3）如果市场的需求函数变为 $D_1=8000-400P$ ，短期供给函数变为 $S_1=4700+150P$ ，求市场的短期均衡价格和均衡产量；（2 分）
- （4）判断（3）中的市场是否同时处于长期均衡，求行业内的厂商数量。（3 分）

四、判断正误并说明理由（每题 5 分，共 10 分）

1. 边际产量增加使总产量增加，边际产量减少使总产量减少。
2. 垄断厂商的平均收益曲线与边际收益曲线是同一条曲线。

五、实例分析题（10 分）

在我国，学生身上发生的一些经济现象，可能更价格歧视有关。例如，看电影，某些影院推出的措施是学生凭学生证可以享受半价优惠。另外，学生放假回家坐火车可以享受半票待遇，这是否也是价格歧视呢？请说明。

六、简答题（每题 10 分，共 40）

1. 为什么对人的生命不可或缺的水的价格要比没有多少实际用处的钻石的价格低？
2. 比较下列政府行为的异同
 - (1) 对某种商品的所有生产者给予单位现金补贴，将会对该商品的供给曲线产生什么影响？
 - (2) 与上问相反，对该商品的所有生产者征收单位销售税，将会对该商品的供给曲线产生什么影响？
 - (3) 对一种商品的所有生产者来说，实行最低限价或最高限价，与给予单位补贴或征收单位销售税有何不同？
3. 劳动供给曲线为什么向后弯曲？
4. 市场机制能够解决信息不完全和信息不对称问题吗？

七、论述题（第 1 题 15 分，第 2 题 20 分，共 35 分）

1. 为什么社会总资本扩大再生产要顺利进行必先具备前提条件？为什么前提条件具备后还要具备实现条件？社会总资本扩大再生产的实现条件是什么？（15 分）

2. 用图形推导完全竞争厂商的短期供给曲线。（20 分）